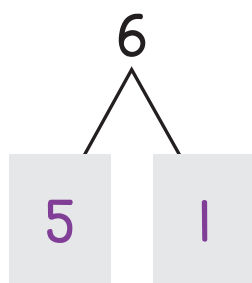




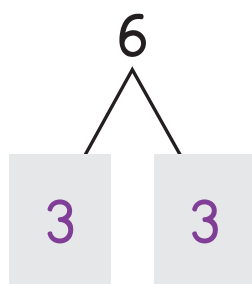
Nombre _____



1. Muestra dos maneras de formar 6. **Ejemplo:**

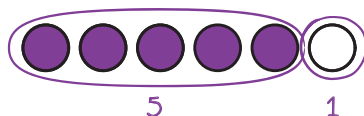


$$5 + 1 = 6$$



$$3 + 3 = 6$$


Coloreo algunos círculos para mostrar una parte de 6.



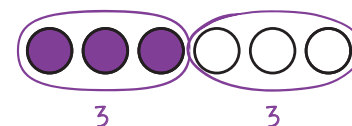
Veo que 5 y 1 forman 6.

Completo las partes del vínculo numérico.

Escribo una oración numérica que se relacione.



Puedo colorear más o menos círculos para mostrarlo de otra manera.



Veo que 3 y 3 también forman 6.


Completo las partes del vínculo numérico.

Escribo una oración numérica que se relacione.


RECUERDA




2. Encierra en un círculo.



La gallina es



Puedo trazar una línea como ayuda para ver que los extremos empiezan en el mismo lugar.



Puedo ver que la vaca se extiende más hacia arriba que la gallina. La gallina es baja, no alta.

La gallina no es pesada. Puedo levantar una gallina.