






Nombre \_\_\_\_\_



1. Colorea para mostrar cuántos hay.



Escribe los totales.



Conteo de animales

Totales



--	--	--	--	--	--	--	--	--	--	--	--	--	--	--	--	--	--	--	--

--



--	--	--	--	--	--	--	--	--	--	--	--	--	--	--	--	--	--	--	--

--



--	--	--	--	--	--	--	--	--	--	--	--	--	--	--	--	--	--	--	--

--



Encierra en un círculo las oraciones verdaderas.

Hay más  que .

Hay más  que .

Hay más  que .

**RECUERDA**

2. Cuenta hacia arriba de unidad en unidad.



Escribe los números.

36